
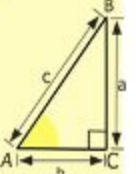
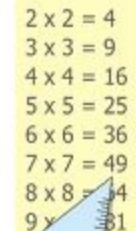



1. Длина автомобильных дорог в Янаульском районе - 626 км, из них 269 км асфальтированных. Какую часть всех дорог Янаульского района составляют покрытые асфальтом дороги?



2. Площадь Янаульского района 2094 квадратных километров, 1/3 этой площади занята лесом. Сколько квадратных километров занята лесом?



3. В нашем классе занимаются танцами 6 человек, что составляет 2/7 всего класса.



Сколько всего учеников в нашем классе?

$$\begin{cases} y = \sin 90 \\ x = 25y + 45 \\ y = 1 \\ x = 25 + 45 \\ x = 70 \end{cases}$$
$$(x-y)(x-y) = x^2 - y^2$$