







# Устная работа:


## 1. Вычислите:

а)  $\sqrt{0,36 \cdot 25} =$  

в)  $\sqrt{2\frac{1}{4}} =$  

б)  $\sqrt{\frac{49}{100}} =$  

г)  $\sqrt{15^2 - 12^2} =$  

д)  $\sqrt{3} \cdot \sqrt{12} =$  

е)  $\frac{\sqrt{44}}{\sqrt{11}} =$  