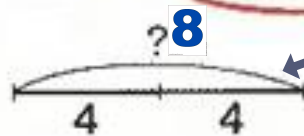
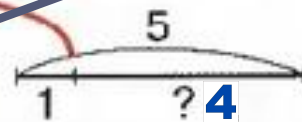


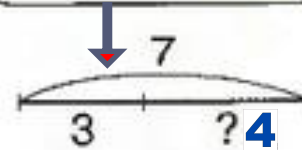
- 4 Подбери к картинкам схемы и запиши решение.
 Что надо найти: целое или часть?



$$4 + 4 = \boxed{8}$$



$$5 - 1 = \boxed{4}$$



$$7 - 3 = \boxed{4}$$